


Ik kan de lijnen trekken



Ik kan het goede getal opschrijven



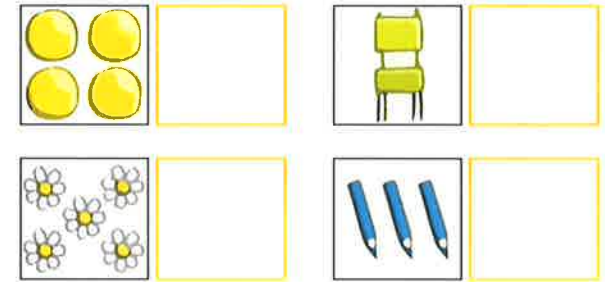
Ik kan tellen tot 10



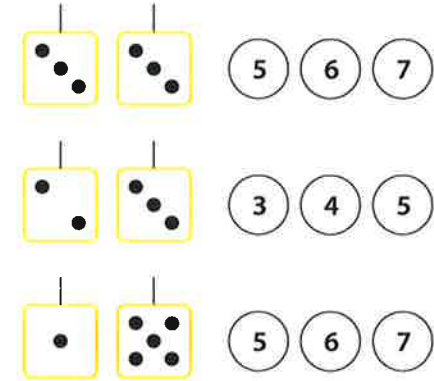
**Boek 3a blok 1:
De eerste schooldag**




Ik kan er minder tekenen



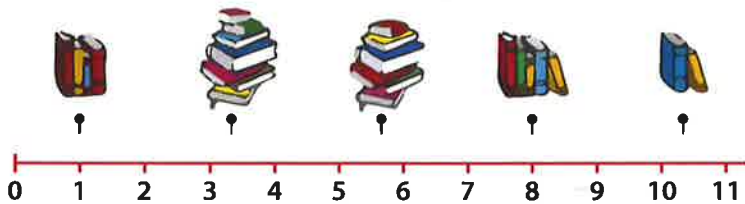
Ik kan de getallen zien



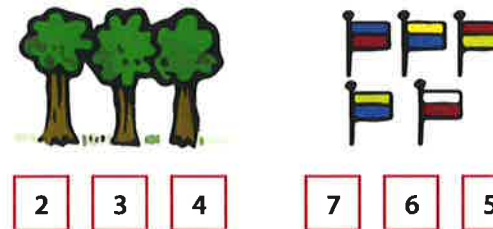
Ik ken de getallenlijn




Ik kan tellen en de lijnen trekken



Ik kan tellen tot 10

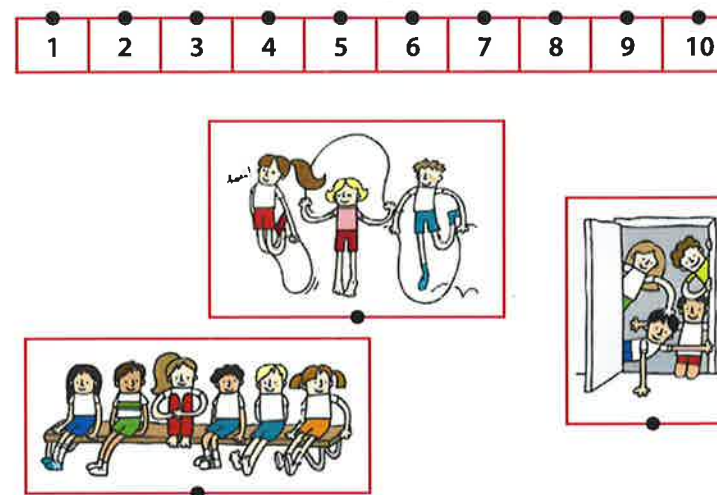


**Boek 3a blok 2:
In de gymzaal**

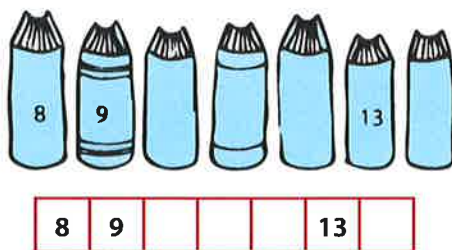


Ik kan minder tekenen

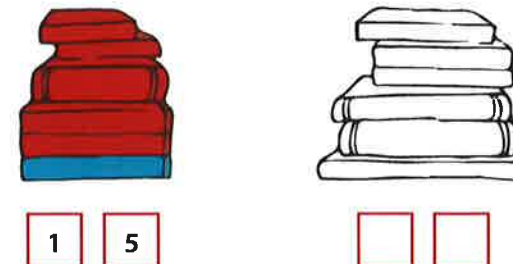
Ik kan tellen en lijnen trekken



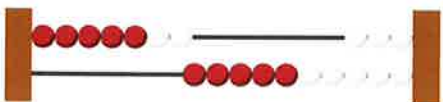
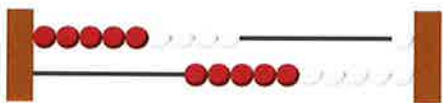
Ik ken de getallenlijn



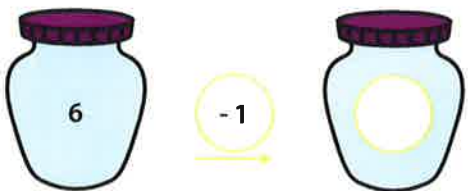
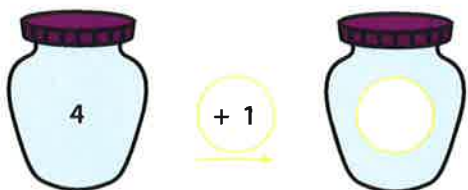
Ik kan splitsen



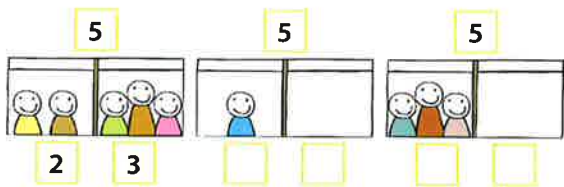
Ik kan zien hoeveel er op het rekenrek staan



Ik kan erbij en eraf sommen maken



Ik kan splitsen en tekenen



Boek 3a blok 3: De school is uit



Ik kan splitsen



5


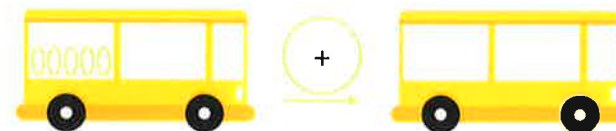
6



3

1

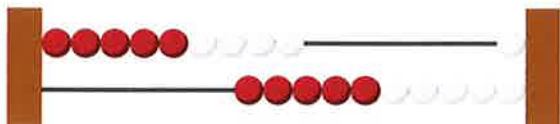
Ik kan bussommen maken



Ik kan zien hoeveel eieren verstopt zijn



Ik kan zien hoeveel er op het rekenrek staat



Ik kan de som bedenken



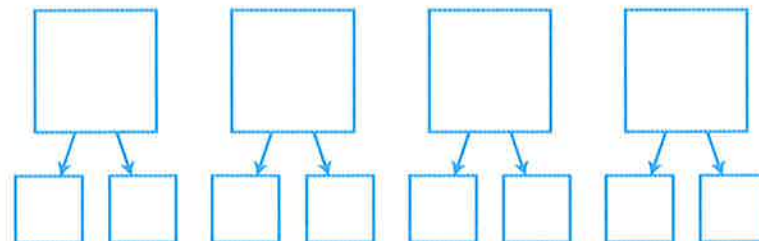
Boek 3a blok 4: Jarig

Ik kan de sommen uitrekenen

5	+1	<input type="text"/>	4	-1	<input type="text"/>
4	+2	<input type="text"/>	7	-1	<input type="text"/>
7	+2	<input type="text"/>	5	-2	<input type="text"/>
9	+1	<input type="text"/>	9	-2	<input type="text"/>
6	+2	<input type="text"/>	8	-1	<input type="text"/>



Ik kan splitsen

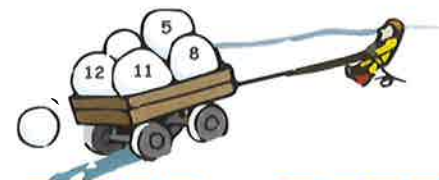


Ik kan van minder naar meer opschrijven

8	10	9	→	<input type="text"/>	<input type="text"/>	<input type="text"/>
12	14	13	→	<input type="text"/>	<input type="text"/>	<input type="text"/>
15	16	14	→	<input type="text"/>	<input type="text"/>	<input type="text"/>
18	20	19	→	<input type="text"/>	<input type="text"/>	<input type="text"/>



Ik kan de getallenlijn invullen



8	<input type="text"/>	<input type="text"/>	11	<input type="text"/>	14	<input type="text"/>	<input type="text"/>
<input type="text"/>	17	<input type="text"/>	19	<input type="text"/>	<input type="text"/>	16	<input type="text"/>
<input type="text"/>	13	<input type="text"/>	15	<input type="text"/>	<input type="text"/>	<input type="text"/>	19
<input type="text"/>	18	19	<input type="text"/>	<input type="text"/>	<input type="text"/>	15	<input type="text"/>


Ik kan de wijzers tekenen



10 uur

7 uur

1 uur



Boek 3b blok 1: Strips



Ik kan gepast betalen

11 euro	1			1
16 euro				
17 euro				



Ik kan de getallenlijn afmaken

16	17	18		
	28			31
24	25			




Ik kan tien optellen bij een eenheid

Ik kan van minder naar meer opschrijven



13	11	16	18	→				
21	23	19	20	→				
28	26	30	25	→				

Ik kan er op 2 manieren 15 euro van maken

Voorbeeld 7 euro



5 2


Blank boxes for writing other combinations of 15 euros.






Boek 3b blok 2: Op de kinderboerderij



Ik kan de verhouding zien



8 Kippen

Ik kan aanvullen tot 10

- | | |
|----------------|----------------|
| 4 + = 10 | 3 + = 10 |
| 7 + = 10 | 6 + = 10 |
| 2 + = 10 | 9 + = 10 |
| 5 + = 10 | 8 + = 10 |
| 1 + = 10 | 4 + = 10 |

Ik kan de getallenlijn invullen

16	17	18
	23	
	41	
	28	

Ik kan tientallen en eenheden samenvoegen

- | | |
|-----------------|-----------------|
| 12 = 10 + | 19 = 10 + |
| 15 = 10 + | 16 = 10 + |
| 11 = 10 + | 13 = 10 + |
| 18 = 10 + | 17 = 10 + |
| 14 = 10 + | 20 = 10 + |

Ik kan geld bij elkaar optellen

27 euro

..... euro

..... euro

..... euro



**Boek 3b blok 3:
Verjaardag in het pretpark**



Ik gebruik de 1^e som om de 2^e som uit te rekenen

3 + 4 =

2 + 7 =

7 - 4 =

9 - 7 =

2 + 6 =

4 + 5 =

8 - 6 =

9 - 5 =



Ik kan analoog klokkijken (hele uren) en weet hoe lang het duurt

4 uur

... uur

... uur

Ik kan getallen in de goede volgorde op de getallenlijn zetten

65	66	63	67	64	→	63				
47	39	43	41	45	→					
64	58	60	56	62	→					

Ik kan optellen en aftrekken tot 20

1 + 6 =

4 + 3 =

11 + 6 =

14 + 3 =

7 - 3 =

9 - 6 =

17 - 3 =

19 - 6 =



Ik kan uitrekenen hoeveel geld ik overhoud

	 2 euro	 4 euro	 5 euro	 6 euro	 8 euro	wat houd je over?
10		1	1		 euro
12		1		1	 euro
12	1	1	1		 euro

Boek 3b blok 4: Vakantie

Ik kan de kalender invullen


mei

	29	6			
Maandag					
Dinsdag	30				
Woensdag	1				
Donderdag	2				
Vrijdag				24	31
Zaterdag					1
Zondag		12	19		2



Ik kan met zo weinig mogelijk biljetten en munten betalen

					
57 euro					
72 euro					
66 euro					



Ik kan geldbedragen bij elkaar optellen



Ik kan de getallenlijn invullen

